

Fakta 03

1/2 time uden hjælpemidler


Navn:

Hvilket sømærke er det :

Beskriv sømærket bla. lyskarakter:

Hvilke refleksbånd har sømærket :

Hvorledes passeres sømærket:




Hvilket sømærke er det :

Beskriv sømærket bla. lyskarakter:

Hvilke refleksbånd har sømærket :

Hvorledes passeres sømærket:



Hvad markerer disse båker ?

Hvorledes sejler du efter disse båker ?



Hvis du ser 2 hvide blink efterfuldt af mørke. Hvilket sømærke er det ?

Nævn alle de nødsignaler du kan huske :

Nævn sikkerhedsudstyr du ønsker på dit skib ?:

Hvilket dagsignal, skal en sejlbåd der sejler for sejl og motor, føre ?



Hvem får du kontakt med, når du udsender et MAYDAY på din VHF på kanal 16 ?

Hvad er tågesignalet for en ankerlægger u. 100 m. ?

Hvad er dagsignalet for en fisker ?



Hvordan markeres muslingefarme og naturreservater i søkortet ?

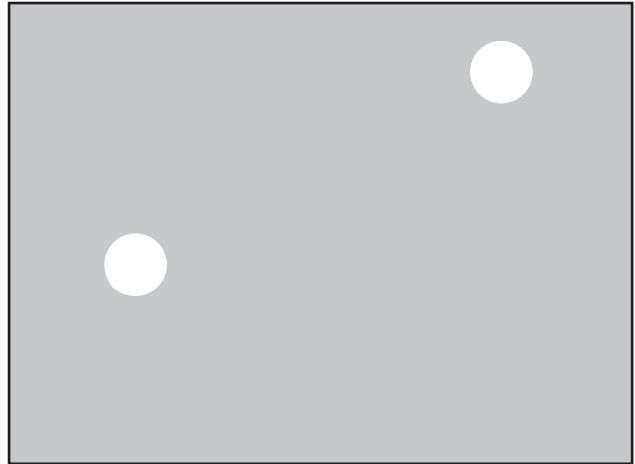
Hvad betyder lydsignalet  (2. min.) ?

Hvilken skibstype viser disse lys?

Hvilken side af skibet kan ses ?

Gør skibet fart ?

- Ja
- Nej
- Kan ikke afgøres



Fortæller lanternerne noget om skibets længde ?

Tegn skibets evt. dagsignal

Hvad er skibets tågesignal - og hvor ofte skal det afgives ?

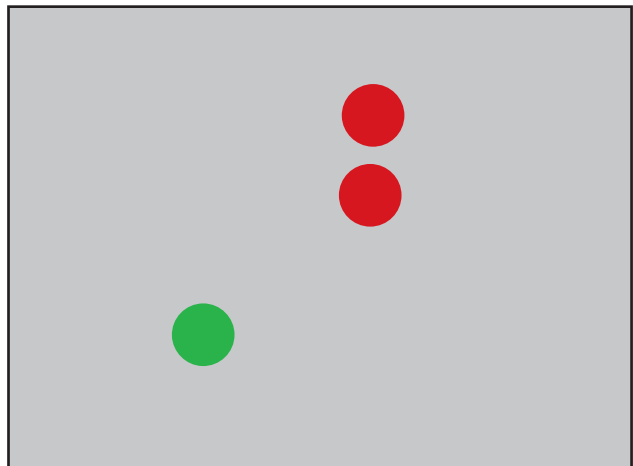


Hvilken skibstype viser disse lys?

Hvilken side af skibet kan ses ?

Gør skibet fart ?

- Ja
- Nej
- Kan ikke afgøres



Fortæller lanternerne noget om skibets længde ?

Tegn skibets evt. dagsignal

Hvad er skibets tågesignal - og hvor ofte skal det afgives ?



Hvordan kan man undersøge, om der er fare for sammenstød, når to skibe nærmer sig hinanden ?

Hvis der er fare for sammenstød mellem skib A og skib B, og skib A skal vige ;
Hvordan skal skib A da udføre sin vigemanøvre ?

- og hvad skal skib B foretage sig ?

Hvem skal vige ?

Anfør med pile, hvordan skibene skal - eller kan forholde sig
- både det skib, der skal vige og det skib, der ikke skal vige.

