

Fakta 05

1/2 time uden hjælpemidler


Navn:

Hvilket sømærke er det :

Beskriv sømærket bla. lyskarakter:

Hvilke refleksbånd har sømærket :

Hvorledes passeres sømærket:




Hvilket sømærke er det :

Beskriv sømærket bla. lyskarakter:

Hvilke refleksbånd har sømærket :

Hvorledes passeres sømærket:



Hvad markerer disse båker ?

Hvorledes sejler du efter disse båker ?



Hvorledes passeres en trafikrute ?

Nævn alle de nødsignaler du kan huske :

Nævn sikkerhedsudstyr du ønsker på dit skib ?:

Hvilket fartøj fører dette signal, og hvad vil du gøre hvis du møder det ?



Hvad ord bruges på VHF kanal 16 i en nødsituation (sagt 3 gange) ?

Hvad siger søvejsreglerne om sikker fart ?

Hvad er tågesignalet for en fisker ?

Hvad er opmærksomhedssignalet om natten ?


Hvad betyder lydsignalet  ?

Hvilken skibstype viser disse lys?

Hvilken side af skibet kan ses ?

Gør skibet fart ?

- Ja
- Nej
- Kan ikke afgøres



Fortæller lanternerne noget om skibets længde ?

Hvad er skibets tågesignal - og hvor ofte skal det afgives ?

Tegn skibets evt. dagsignal

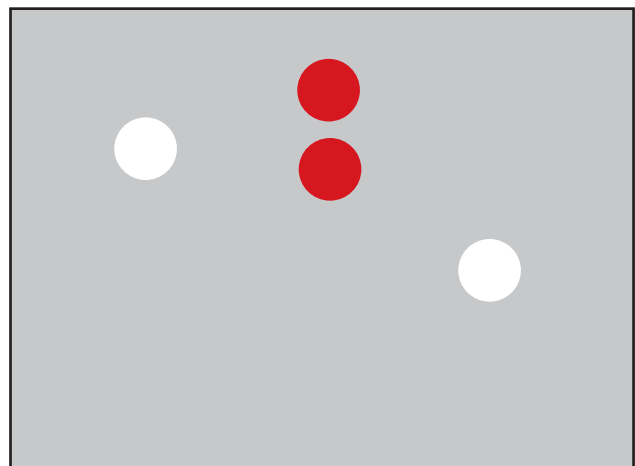


Hvilken skibstype viser disse lys?

Hvilken side af skibet kan ses ?

Gør skibet fart ?

- Ja
- Nej
- Kan ikke afgøres



Fortæller lanternerne noget om skibets længde ?

Hvad er skibets tågesignal - og hvor ofte skal det afgives ?

Tegn skibets evt. dagsignal



Hvordan kan man undersøge, om der er fare for sammenstød, når to skibe nærmer sig hinanden ?

Hvis der er fare for sammenstød mellem skib A og skib B, og skib A skal vige ;
Hvordan skal skib A da udføre sin vigemanøvre ?

- og hvad skal skib B foretage sig ?

Hvem skal vige ?

Anfør med pile, hvordan skibene skal - eller kan forholde sig
- både det skib, der skal vige og det skib, der ikke skal vige.

